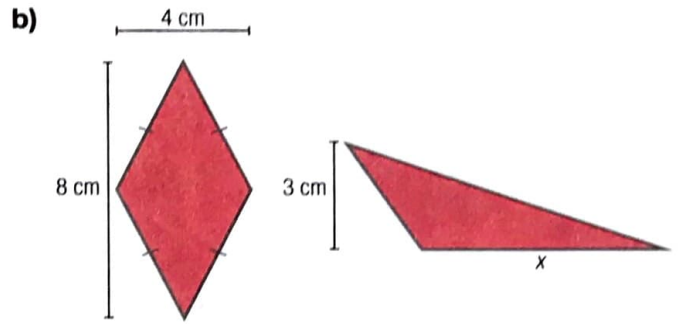
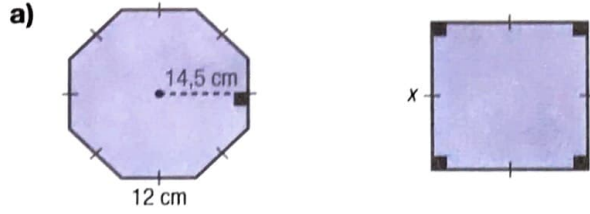
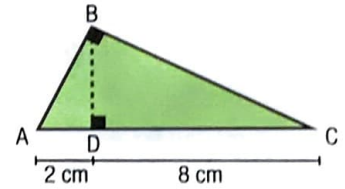

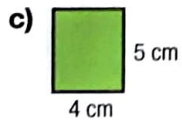
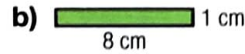
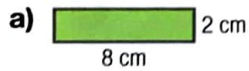


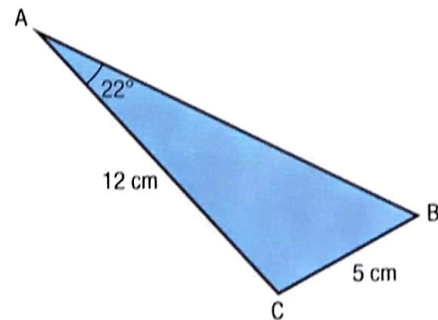
4 Sachant que dans chaque cas, les deux figures sont équivalentes, déterminez la mesure associée à x .



5 Parmi les rectangles illustrés, lequel est équivalent au triangle ABC ?

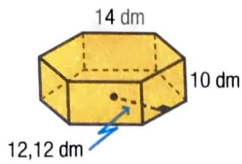


6 Soit un carré équivalent au triangle ABC.
Quelle est la mesure d'un côté de ce carré ?

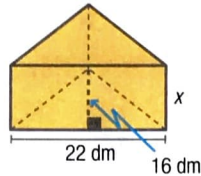


7 Sachant que dans chaque cas, les deux solides sont équivalents, déterminez la mesure associée à x .

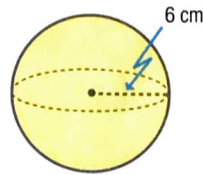
a) **Prisme régulier**



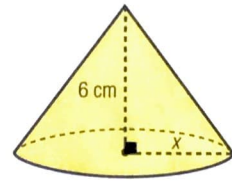
Prisme droit à base triangulaire



b) **Boule**



Cône circulaire droit



8 Quelle est la mesure d'une arête d'un cube équivalent au prisme droit représenté ?

